


AI2 Analyzing data: trends, discrepancies and sources of error. *tendance*

AI2 drawing conclusions



x	y
Année	Consommation en g
1925	325
1960	250
1980	170
2000	153
2006	138
2009	125
1980	193,5

$$\begin{array}{r} 325 \\ -125 \\ \hline 200 \end{array}$$

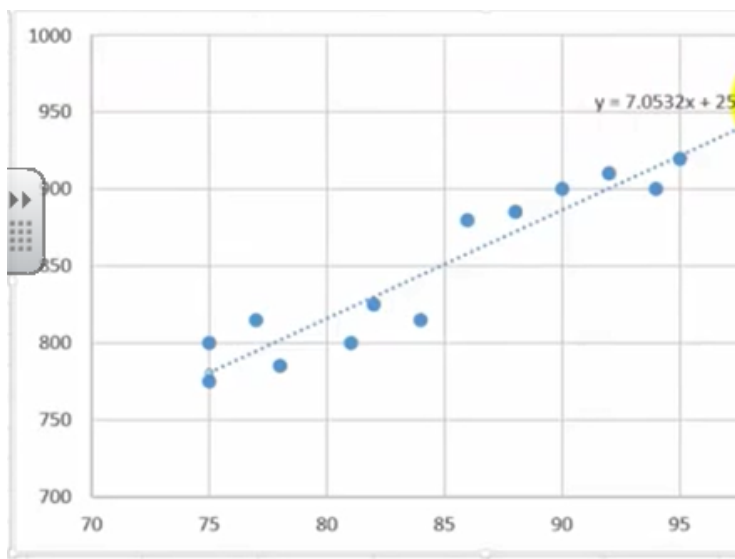
x	y
1	

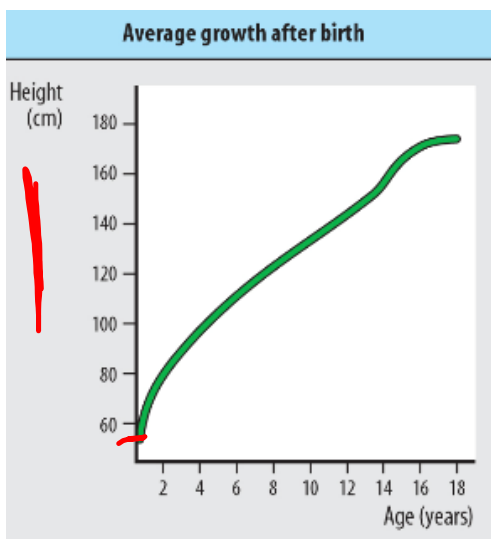


Écrire un conclusion en tendance

La tendance pour manger du pain diminue <sup>chaque année</sup>. De l'année 1920 à 2010 il diminue par 200 <sup>consommateurs</sup>.

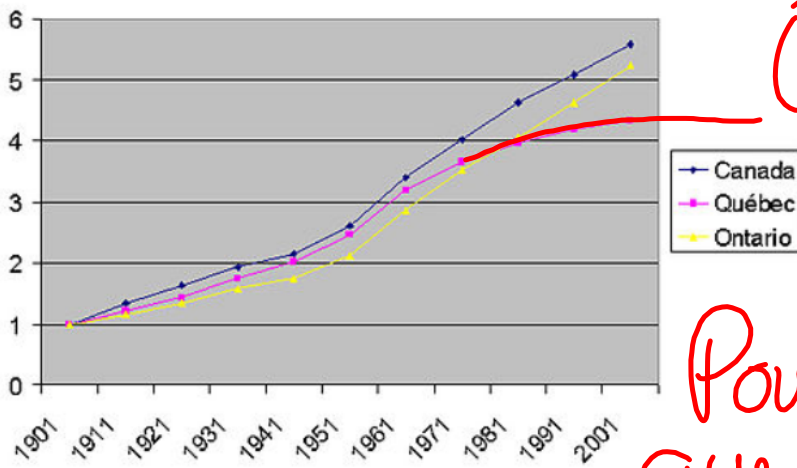
1. Phrase pour résumer ce qu'on a appris. et ajoute de la preuve.





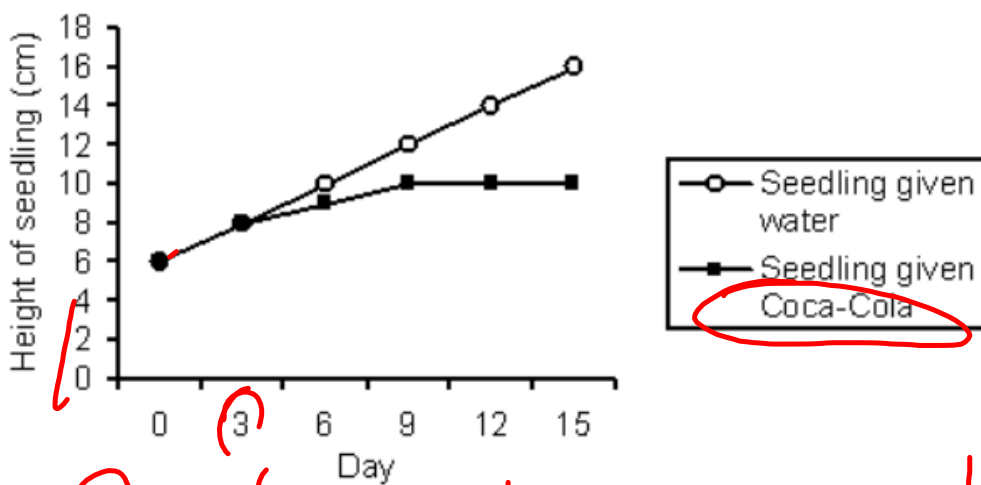
Quelle est  
la tendance?

Évolution comparée de la population du Québec,  
de l'Ontario et du Canada entre 1901 et 2001  
1901 = 1



Quelle est la tendance?

Pourquoi penses-tu que la population de Québec n'est pas si grande que l'Ontario?



Quelle conclusion peux-tu tirer de ces résultats?

