



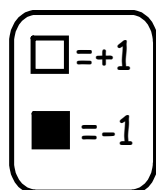
Révision

N7 Les nombres entiers

Nouveau

N1 La valeur de position.

N7



N7

Leçon 8 : Qu'est-ce qu'un nombre entier ?

1. Écris un nombre entier pour représenter chaque situation.

- a) La température est de 8° au-dessous de 0°C . -8
b) La vallée est à 700 m au-dessous du niveau de la mer. -700
c) Victor a dépensé 89 \$ de ses économies. -89
d) L'avion vole à une altitude de 20 000 m. $+20\ 000$
e) Charline a obtenu 5 au-dessous de la normale au golf. -5

2. Écris l'opposé de chaque nombre entier.

- a) +7 b) -4 c) +8 d) -17 e) +32

-7 4 -8 17 -32

5. Dessine des carreaux rouges ou jaunes pour représenter chaque entier.

  -1

  +1

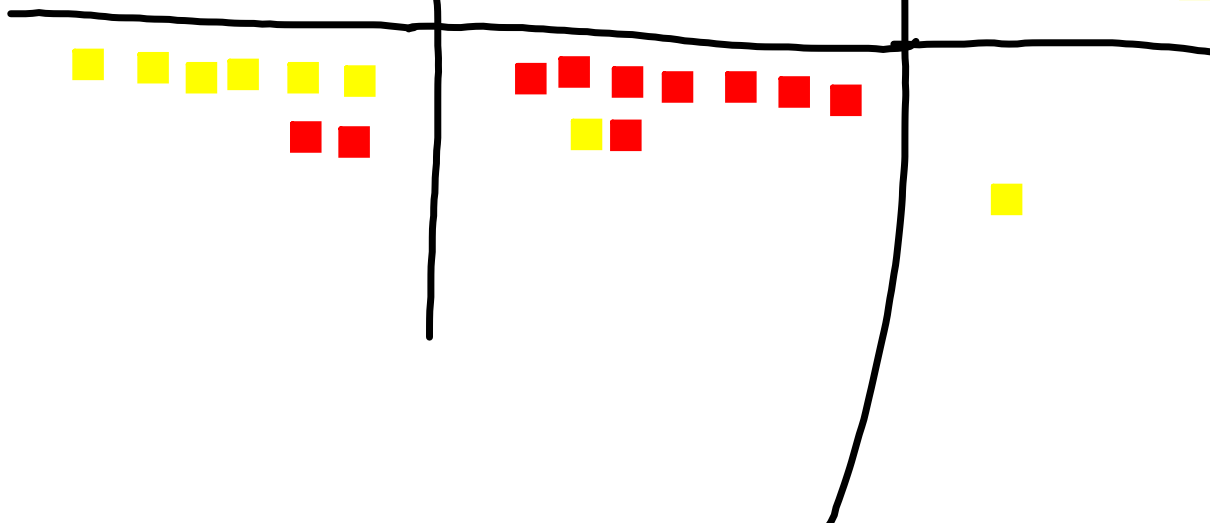
a) +4



b) -7



c) +1



1. Écris chaque nombre sous forme développée.

a) 184 267 317

b) 4 300 627 803

c) 17 652 425

d) 85 697 304 281

!

Écris la valeur de chaque chiffre souligné.

a) 184 267 317

b) 4 300 627 803

c) 17 662 425

